

۹ شهریور

باسمه تعالی

اداره آموزش و پرورش شهر لاهرود

آزمون: ریاضی پایه دوم نوبت اول

دبستان: علویه انار

نام و نام خانوادگی:

طراح: زینب محمدنژاد اناری

تاریخ آزمون: ...../...../۱۴۰۰

مدت آزمون: ۴۵ دقیقه


۱- هر کدام از شکل‌ها چه عددی را نشان می‌دهند؟




الف



ب



ج



۲- در جای خالی عدد مناسب بنویسید.

..... و ۵۰ و ۳۰ (الف)

..... و ۱۰ و ۱ (ب)

..... و ۵۰ و ۴۰ (ج)

۳- یکان و دهگان اعداد زیر را در جدول ارزش مکانی نشان بده؟

۱۱

۲۸

۹۹

۴- عدد های دو رقمی را به عدد و حروف بنویسید؟

الف) رقم یکان ۴ و رقم دهگان ۷: ..... به حروف .....

ب) رقم یکان ۳ و رقم دهگان ۵: ..... به حروف .....

۵- زهرا ۳۹ عکس دارد. ۲۳ تا از عکس‌ها رنگی و بقیه سیاه و سفید هستند. زهرا چند عکس سیاه و

سفید دارد؟


۶- امروز روز یازدهم ماه است. ۴ روز بعد، چه روزی از ماه است؟ ..... ماه است.

۷- الگورا رو به عقب بشمار؟

(ب) ۲۸ - ..... - ..... - ۷

(الف) ۲۵ - ..... - ..... - ۵

۸- الگوها را بشمار و بنویس؟



(الف)




(ب)


۹- با رقم ۳، ۹، ۰ اعداد دو رقمی بنویسید؟

# جزوه سیپی

۱۰- برای شکل‌های زیر جمع و تفریق بنویس؟



(الف) ..... + ..... = .....



(ب) ..... - ..... = .....